

# DOSSIER D'ACCOMPAGNEMENT

## *Théories du complot*

**Réalisé par :** Delarche Aurore  
Oger-Leroux Aurelia  
Lesieur Christiane  
Raddaz Corinne



1. **PRÉSENTATION SYNTHETIQUE DU JEU :** Ce jeu a pour ambition de faire appréhender aux élèves la notion de complot et de les amener à évaluer et valider une information.

## 2. **AVANT LE JEU : POUR ENTRER EN MATIÈRE**

Brainstorming autour de la théorie du complot

### ▪ **COMPETENCES MOBILISEES**

#### **Objectifs**

- Adopter une attitude critique face aux contenus qui se diffusent notamment sur Internet et les réseaux sociaux.
- Développer l'esprit critique
- Evaluer, valider une source

### Compétences visées (Socle commun et EMI / Matrice EMI académie de Toulouse)

- Socle commun : Médias, démarches de recherche et de traitement de l'information : « l'élève apprend à confronter différentes sources et à évaluer la validité des contenus »
- Matrice EMI : objectif 1. Être auteur : consulter, s'approprier

### Compétences Cadre de Référence des compétences numériques (niveau 3)

#### 1.1 mener une recherche ou une veille d'information

#### Notions abordées

Théorie du complot, validité de l'information, sources

## Scenario Escape Game

### ESCAPE GAME : Evaluer l'information et appréhender la notion de complot

- Diviser la classe en 5 groupes
- Présentation du jeu et de son objectif avec l'avatar Léo

#### **Vidéo introductive :**

<https://www.voki.com/site/pickup?scid=15248718&chsm=b1e09680634cc68dc1db72ec7bb27836>

Lien du Padlet (trame du jeu) sur e-sidoc (Pontus de Tyard) rubrique « découvrir »

[https://padlet.com/aurelia\\_leroux/8awfrz3yl358](https://padlet.com/aurelia_leroux/8awfrz3yl358)

### Etape 1 :

<https://learningapps.org/display?v=pvyeavzya19>

A partir des définitions qui te sont proposées, remplis la grille de mots-croisés.  
Tu obtiendras un code qui te permettra de passer à l'étape suivante.

### Question 1 (Verticalement):

Document disponible sur le site des professeurs documentalistes de l'académie de Dijon. <http://cdi.ac-dijon.fr> Tous droits réservés

Mot qui désigne la crédibilité qu'on peut donner à une information et qui permet de vérifier le sérieux d'une source, d'un auteur et sa compétence.

Ce mot est aussi un antonyme de nullité VALIDITE

### Question 2 (Horizontalement):

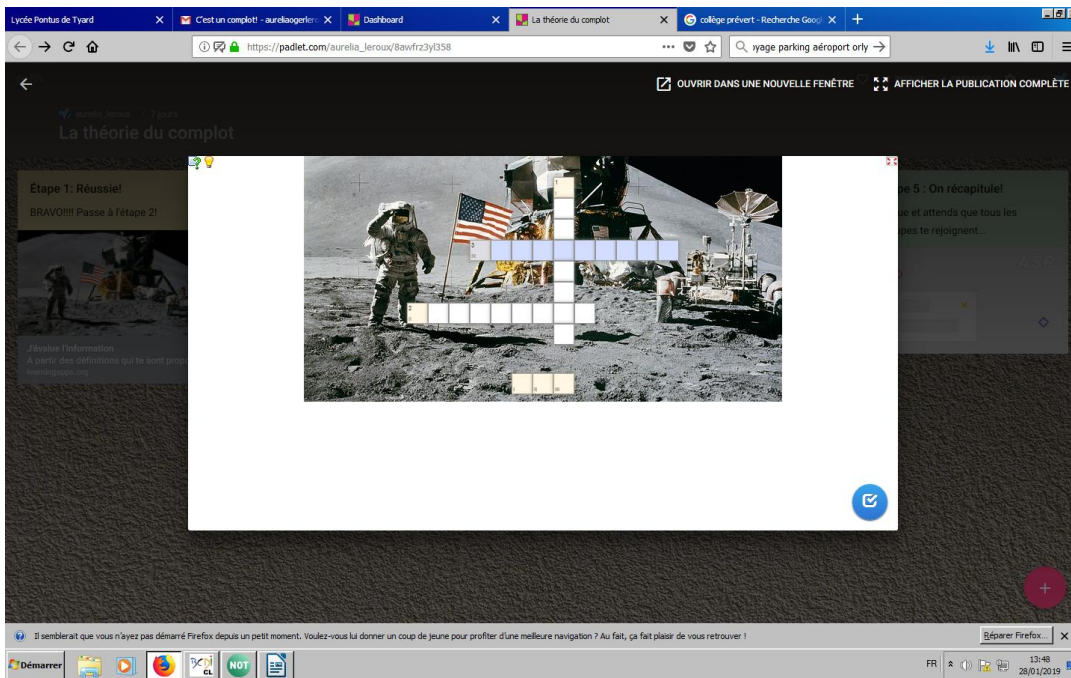
Mot qui désigne le fait de se fier ou de faire confiance à une information car on a pu identifier l'auteur, l'intention de celui-ci et la date de publication.

Ce mot est aussi synonyme de "digne de confiance" FIABILITE

### Question 3 (Horizontalement):

Mot qui désigne le niveau d'utilité d'une information par rapport à notre besoin de recherche.

Si on rajoute le préfixe "im" ce mot est synonyme d'insolence. PERTINENCE



Le code est composé de la première lettre des mots 1, 2, et 3 VFP

### Etape 2 :

<https://fr.padlet.com/tranofsteel/y3rg7jsv089h>

<https://learningapps.org/display?v=p7gy9y4cn19>

Visionne attentivement cette vidéo sur la théorie du complot réalisée par France tv puis complète le texte à trous suivant :

esprit critique/vérité/fantasme/explication officielle

La théorie du complot c'est quand un groupe de personnes refusent l' ..... d'un événement en disant que les gens au pouvoir mentent pour cacher des choses graves. C'est un réflexe utile de ne pas croire tout ce qu'on nous dit

Document disponible sur le site des professeurs documentalistes de l'académie de Dijon. <http://cdi.ac-dijon.fr> Tous droits réservés

mais cela peut devenir un ..... car la..... n'est pas forcément facile à admettre. Il faut savoir exercer son .....

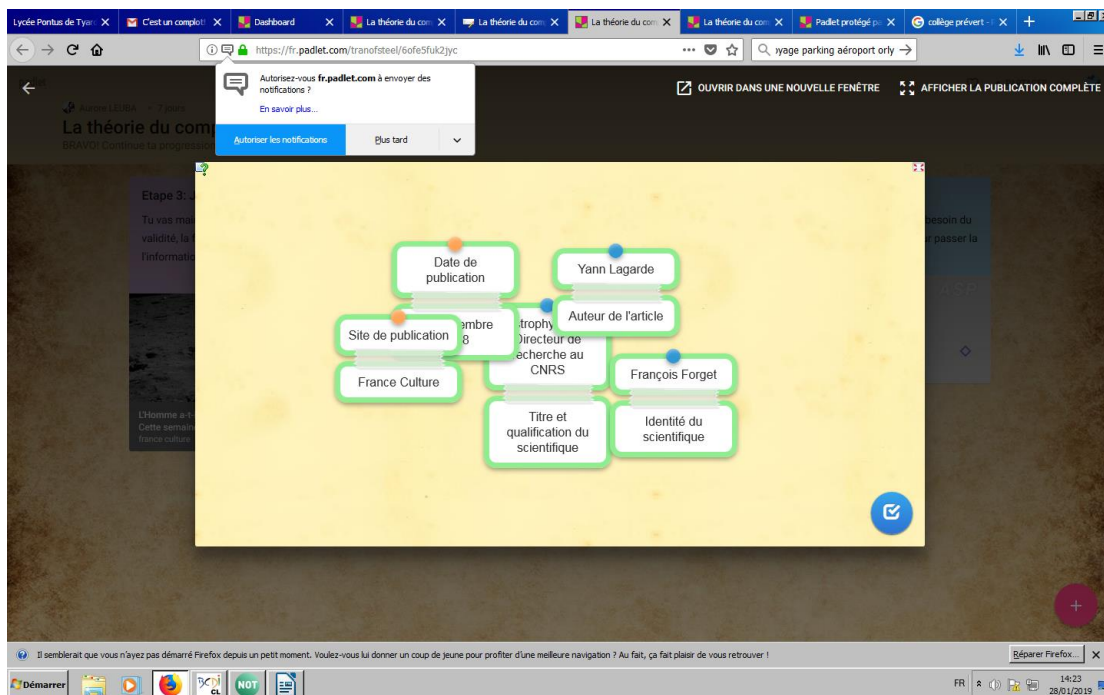
### Etape 3 :

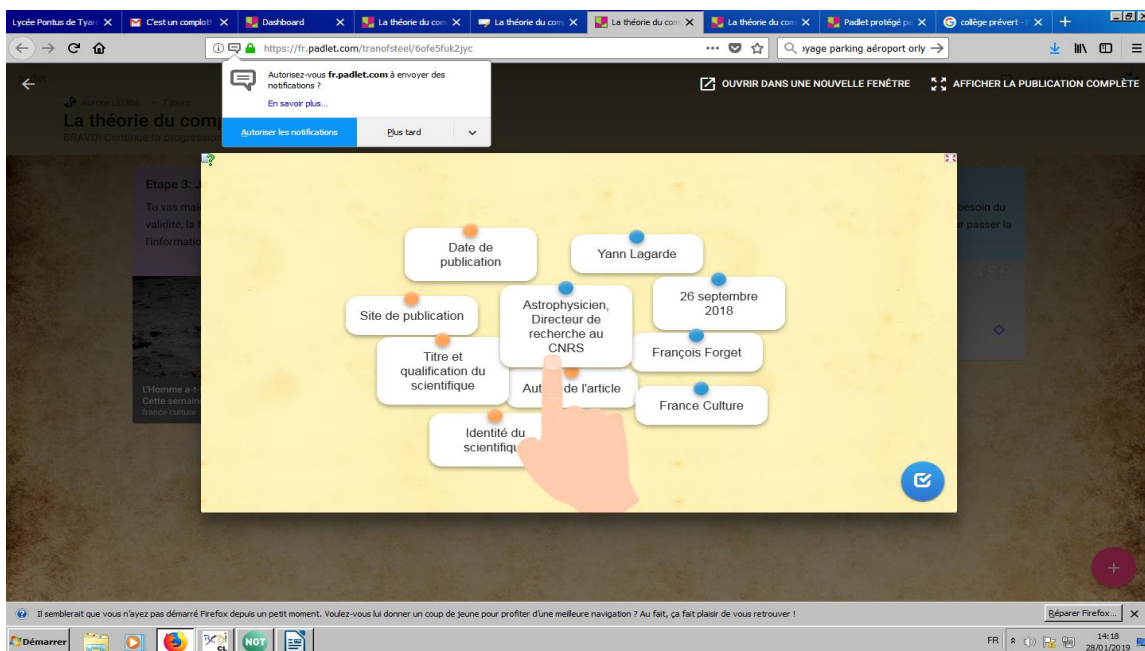
<https://fr.padlet.com/tranofsteel/6ofe5fuk2jyc> (et autres étapes)

Donne accès à la vidéo de France culture et exercice sur les sources :

A partir de la vidéo de l'étape 3, fais des paires entre la source et le nom ou l'organisme qui correspond.

<https://learningapps.org/display?v=pwf5kw1ya19>





## Etape 4 :

Bravo ! Nouvel indice ! Attention, chaque groupe obtient un indice différent. Notez-le et devine à quoi il correspond !

Groupe 1: 629.4 HEN p16

Groupe 2: 520 ESP p28

Groupe 3: 302.24 DES p47

Groupe 4: 520 RID p52

Groupe 5: 940.55 SOU p31

Quizz dans les livres, le numéro des bonnes réponses est le code pour passer à la dernière étape (voir tableau)

### Quizz :

Après avoir visionné la vidéo diffusée sur le site France Culture, choisi la bonne réponse. Les numéros des bonnes réponses formeront le code pour passer à la dernière étape.

A. La NASA a pu capter le signal vidéo en direct de l'alunissage, mais elle n'était pas la seule. Le signal a aussi été capté par :

Document disponible sur le site des professeurs documentalistes de l'académie de Dijon. <http://cdi.ac-dijon.fr> Tous droits réservés

1-Des téléphones mobiles

2-Des pilotes de ligne

3-Des radioamateurs

B. Le drapeau américain a vraiment été planté sur la Lune parce que l'on constate

1-qu'il flotte dans le vent

2-qu'il est chiffonné

3-qu'il avait gardé ses belles couleurs

C. Du sol lunaire, des preuves matérielles ont été rapportées. Il s'agit :

1-De centaines de kilos de roches lunaires

2-De quelques grammes de platine.

3-De centaines de grammes de pierres précieuses.

D. A quoi est dû le halo de poussière autour du module lunaire ?

1-Aux rétrofusées

2-Aux vents lunaires

3-A l'ouverture de la porte du module

E. Quels risques ont été pris pour le premier lancement de la navette américaine ?

1-Ils avaient mis le minimum de carburant dans la navette et n'avaient pas prévu de ravitaillement.

2-Ils ont envoyé des passagers trop jeunes et ne les avaient pas formés à l'alunissage.

3-Il n'y avait pas eu, au préalable, un test non habité. La première navette a été lancée avec deux passagers à son bord.

	Question A	Question B	Question C	Question D	Question E
CODE					

	Question A	Question B	Question C	Question D	Question E
CODE	3	2	1	1	3

<https://www.hidelinks.com/redirectURL.asp?URLCode=p36vqvgpp0>

qui envoi sur la conclusion de Léo

### **Vidéo finale :**

<http://tinyurl.com/ycrg2oxa>

### **Etape 5 :**

<https://play.kahoot.it/#/lobby?quizId=e6fc30a7-665a-4aec-8418-316a1e068f4d>

Choisir le mode classique. Utilisation autorisée du téléphone portable

La validité de l'information c'est :

réponse triangle rouge

La théorie du complot c'est :

réponse carré bleu

La source d'une info c'est :

réponse cercle jaune

Finalement l'homme a-t-il marché sur la lune ?

Réponse triangle rouge

---